





01. Hitunglah jumlah apel berikut dan tuliskan lambang bilangannya!



02. Hitunglah jumlah apel berikut dan tuliskan lambang bilangannya!



03. Ada berapakah benda ini?



Ada buah permen



Ada ... butir telur




Ada ... buah pisang

4. Istilah “lebih banyak”
Manakah yang lebih banyak?




05. Contoh Soal lebih banyak



Buah jeruk lebih banyak daripada pizza

06. Istilah “lebih sedikit”



Jumlah buah nanas lebih sedikit daripada jumlah obat

07. Contoh soal “lebih sedikit”



Jumlah buah mangga lebih sedikit daripada jumlah roti





08. Istilah “sama banyak”



Jumlah buah pisang sama banyak dengan jumlah bola basket
Jumlah buah ceri tidak sama banyak dengan jumlah minuman

09. Urutkanlah dari jumlah yang terkecil sampai ke yang terbesar!



10. Tuliskan angka 0 s/d 5!